
















Maths CP : du 8 au 12 juin (correction)

1/ Range du plus petit au plus grand

3 – 11 – 16 – 20 – 35 – 42

2/ relie chaque calcul au résultat

$10 + 10 + 10 + 2$				14
$10 + 10 + 10 + 10 + 3$				32
$10 + 4$				41
$10 + 10 + 10 + 10 + 1$				43
$10 + 10 + 3$				23

3/

Qui a le plus d'argent ?



$$20 + 20 + 5 + 4 = 49$$

Calcul : _____

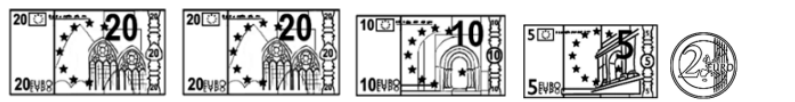
Dédé a  euros.



$$20 + 5 + 5 + 10 = 40$$

Calcul : _____

Patti a  euros.




$$20 + 20 + 10 + 5 + 2 = 57$$

Calcul : _____

Picbille a  euros.



Picbille

C'est  qui a le plus d'argent.

4/calcule

$$3+3=6$$

$$4+4=8$$

$$7+7=14$$

$$3+4=12$$

$$4+5=9$$

$$7+8=15$$

$$5+5=10$$

$$6+6=12$$

$$8+8=16$$

$$6+5=11$$

$$7+6=13$$

$$9+8=17$$

5/ problème

Mélanie a un paquet de 12 billes. Elle en donne 3 à son frère et 2 à sa copine. Combien de billes lui reste-t-il ?

$$12 - 3 = 9$$

$$9 - 2 = 7$$

Il lui reste 7 billes

6/Ecris ces nombres en lettres

15 : quinze

22 : vingt-deux

68 : soixante-huit

79 : soixante-dix-neuf

31 : trente-et-un

54 : cinquante-quatre

7/ quel est ce nombre ?

- Le nombre a 2 chiffres. La somme des chiffres est égale à 5. 23 ou 32
- Le nombre est compris entre 7 et 13. Il a deux fois le même chiffre. 11
-

8/ calcule

$14 + 25 = \dots\dots\dots$

		1	4	
	+	2	5	
		<hr/>		
	=	3	9	